

PHÒNG GIÁO DỤC VÀ ĐÀO TẠO QUẬN 7 ĐỀ CHÍNH THỨC <i>(Đề khảo sát gồm 04 trang)</i>	KÌ KHẢO SÁT NĂNG LỰC VÀO LỚP 6 TRƯỜNG THCS NGUYỄN HỮU THỌ Khóa ngày 15 tháng 6 năm 2024 Khảo sát năng lực phần trắc nghiệm Thời gian làm bài: 30 phút (Không kể thời gian phát đề)		Số thứ tự bài khảo sát <small>(do CB coi khảo sát ghi)</small>
	Họ và tên thí sinh: Trường:..... Số báo danh:.....	Họ tên và chữ ký CB coi KS số 1	Họ tên và chữ ký CB coi KS số 2

✂ -----

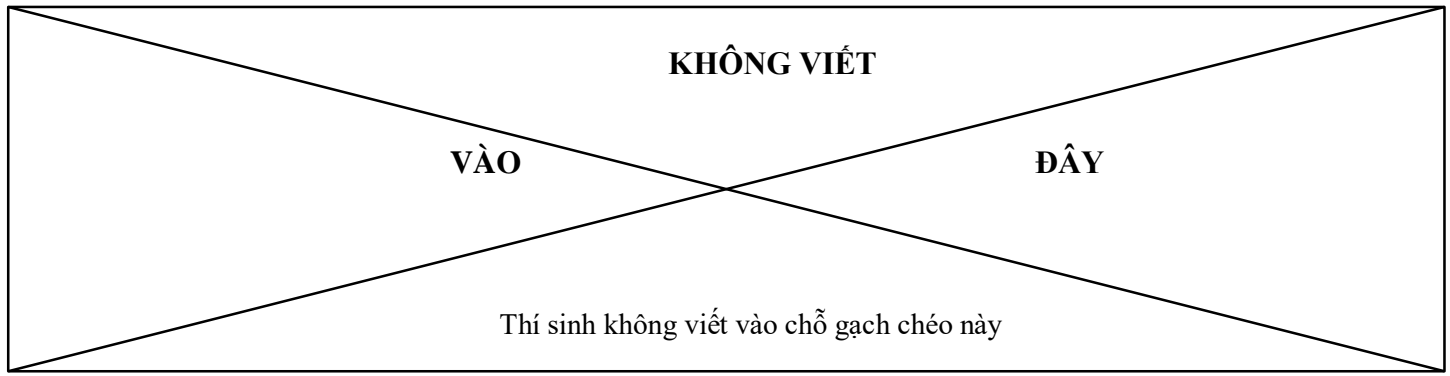
Điểm bằng số	Điểm bằng chữ	Họ tên và chữ ký CB chấm KS số 1	Họ tên và chữ ký CB chấm KS số 2	Số phách <small>(do CB làm phách ghi)</small>
				Số thứ tự bài khảo sát <small>(do CB coi khảo sát ghi)</small>

Dùng bút chì tô kín ô tròn tương ứng trong bảng trả lời với phương án trả lời được chọn. Khi muốn đổi phương án trả lời, thí sinh chỉ cần gôm (tẩy) sạch ô đã tô và tô lại ô mới (mỗi câu trả lời đúng được 2 điểm). Ví dụ: Nếu chọn đáp án A thì tô đen thành

KHÔNG trả lời bằng cách khoanh ở đầu các câu đáp án trong phần đề dưới bảng trả lời. Chỉ chấm điểm cho phần bài làm trong bảng trả lời.

BẢNG TRẢ LỜI

Câu	Chọn lựa				Câu	Chọn lựa			
1	<input type="radio"/>	<input type="radio"/>	<input type="radio"/>	<input type="radio"/>	11	<input type="radio"/>	<input type="radio"/>	<input type="radio"/>	<input type="radio"/>
2	<input type="radio"/>	<input type="radio"/>	<input type="radio"/>	<input type="radio"/>	12	<input type="radio"/>	<input type="radio"/>	<input type="radio"/>	<input type="radio"/>
3	<input type="radio"/>	<input type="radio"/>	<input type="radio"/>	<input type="radio"/>	13	<input type="radio"/>	<input type="radio"/>	<input type="radio"/>	<input type="radio"/>
4	<input type="radio"/>	<input type="radio"/>	<input type="radio"/>	<input type="radio"/>	14	<input type="radio"/>	<input type="radio"/>	<input type="radio"/>	<input type="radio"/>
5	<input type="radio"/>	<input type="radio"/>	<input type="radio"/>	<input type="radio"/>	15	<input type="radio"/>	<input type="radio"/>	<input type="radio"/>	<input type="radio"/>
6	<input type="radio"/>	<input type="radio"/>	<input type="radio"/>	<input type="radio"/>	16	<input type="radio"/>	<input type="radio"/>	<input type="radio"/>	<input type="radio"/>
7	<input type="radio"/>	<input type="radio"/>	<input type="radio"/>	<input type="radio"/>	17	<input type="radio"/>	<input type="radio"/>	<input type="radio"/>	<input type="radio"/>
8	<input type="radio"/>	<input type="radio"/>	<input type="radio"/>	<input type="radio"/>	18	<input type="radio"/>	<input type="radio"/>	<input type="radio"/>	<input type="radio"/>
9	<input type="radio"/>	<input type="radio"/>	<input type="radio"/>	<input type="radio"/>	19	<input type="radio"/>	<input type="radio"/>	<input type="radio"/>	<input type="radio"/>
10	<input type="radio"/>	<input type="radio"/>	<input type="radio"/>	<input type="radio"/>	20	<input type="radio"/>	<input type="radio"/>	<input type="radio"/>	<input type="radio"/>



✂

Question 1. Which countries are neighbors of Vietnam?

- A. Laos, China, Cambodia B. Singapore, Thailand, Malaysia
 C. Laos, Korea, Japan D. China, Cambodia, Malaysia

Question 2. _____ to the pizza restaurant tonight?

- A. How about going B. Let's go C. Why not going D. Would you like

Question 3. Which of the following is the famous quote from the national hero Trần Bình Trọng?

- A. “Bao giờ người Tây nhổ hết cỏ nước Nam thì mới hết người Nam đánh Tây.”
 B. “Nơi nào ta mang quân tới, nơi đó quân thù bị đánh tan tành.”
 C. “Ta thà làm quỷ nước Nam chứ không thèm làm vương đất Bắc.”
 D. “Ngồi yên đợi giặc không bằng đem quân ra phá thế mạnh của giặc.”

Question 4. Don't write a letter. It's _____ to send an email.

- A. easier B. more easy C. more easier D. the easiest

Question 5. The river is considered a temporary dividing line between the North and the South.

- A. Ben Hai River B. Hien Luong River C. Huong River D. Sai Gon River

Question 6. Which area is District 7 located in Ho Chi Minh City?

- A. Northern area B. Southern area C. Western area D. Eastern area

Question 7. Which item uses wind energy to operate?



A



B



C



D

Question 8. Which of the following historic site belongs to District 7?

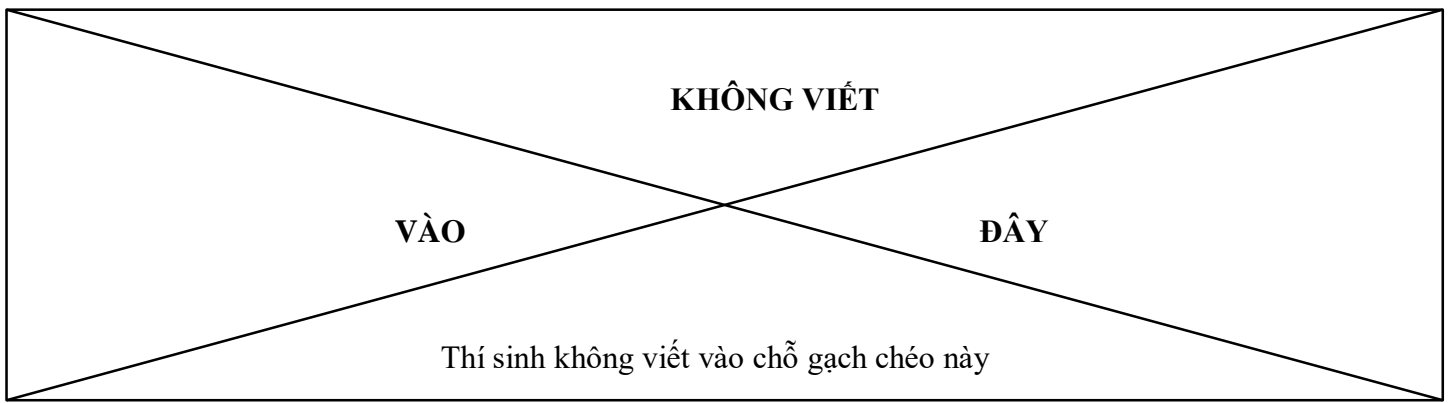
- A. Cu Chi Tunnel B. Nha Rong Harbor C. Long Hoa Pagoda D. Hung Temple

Question 9. Uncle Ho read the Declaration of Independence on _____.

- A. September 2, 1945 B. April 30, 1975 C. May 7, 1954 D. February 3, 1930

Question 10. Which continent has the Equator running across its center?

- A. Europe B. Africa C. America D. Oceania



Question 11. Which event does this picture remind us?

- A. The Vietnamese Army liberated Sai Gon, ending the historic Ho Chi Minh Campaign. Our country was definitely unified and independent.
- B. The tanks entered the Independence Palace on May 1st, 1975.
- C. Truong Son Road was opened to connect the whole country.
- D. The picture is about the great Dien Bien Phu victory of May 7, 1954.

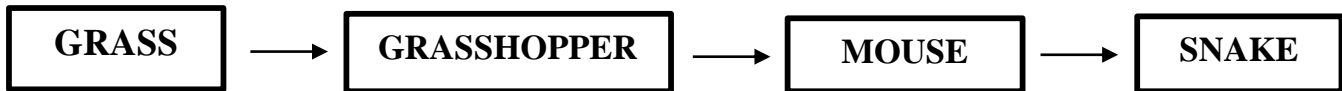


Question 12.

When water boils, it forms bubbles of gas called _____.

- A. steam
- B. solid
- C. liquid
- D. mixture

Question 13. Look at the food chain. What are the consumers?



- A. grass, mouse, snake
- B. grasshopper, mouse, snake
- C. grass, grasshopper, snake
- D. grass and grasshopper

Question 14.

What is the name of the process labelled A?

- A. Freezing
- B. Evaporation
- C. Condensation
- D. Melting



