

<div>PHÒNG GIÁO DỤC VÀ ĐÀO TẠO QUẬN 7</div> <div>ĐỀ CHÍNH THỨC</div> <div>(Đề khảo sát gồm 04 trang)</div>	<div>KÌ KHẢO SÁT NĂNG LỰC VÀO LỚP 6</div> <div>TRƯỜNG THCS NGUYỄN HỮU THỌ</div> <div>Khóa ngày 31 tháng 5 năm 2025</div> <div>Khảo sát năng lực phân trắc nghiệm</div> <div>Thời gian làm bài: 30 phút (Không kể thời gian phát đề)</div>	<div>Số thứ tự bài khảo sát</div> <div>(do CB coi khảo sát ghi)</div>	
<div>Họ và tên thí sinh:</div> <div>Trường:.....</div> <div>Số báo danh:.....</div>	<div>Họ tên và chữ ký</div> <div>CB coi KS số 1</div>	<div>Họ tên và chữ ký</div> <div>CB coi KS số 2</div>	<div>Số phách</div> <div>(do CB làm phách ghi)</div>

✂

Điểm bằng số	Điểm bằng chữ	Họ tên và chữ ký	Họ tên và chữ ký	Số phách
				Số thứ tự bài khảo sát
		CB chấm KS số 1	CB chấm KS số 2	(do CB làm phách ghi)
				(do CB coi khảo sát ghi)

MÃ BÀI KHẢO SÁT: 168

Dùng bút chì tô kín ô tròn tương ứng trong bảng trả lời với phương án trả lời được chọn. Khi muốn đổi phương án trả lời, thí sinh chỉ cần gôm (tẩy) sạch ô đã tô và tô lại ô mới (mỗi câu trả lời đúng được 2 điểm). Ví dụ: Nếu chọn đáp án A thì tô đen

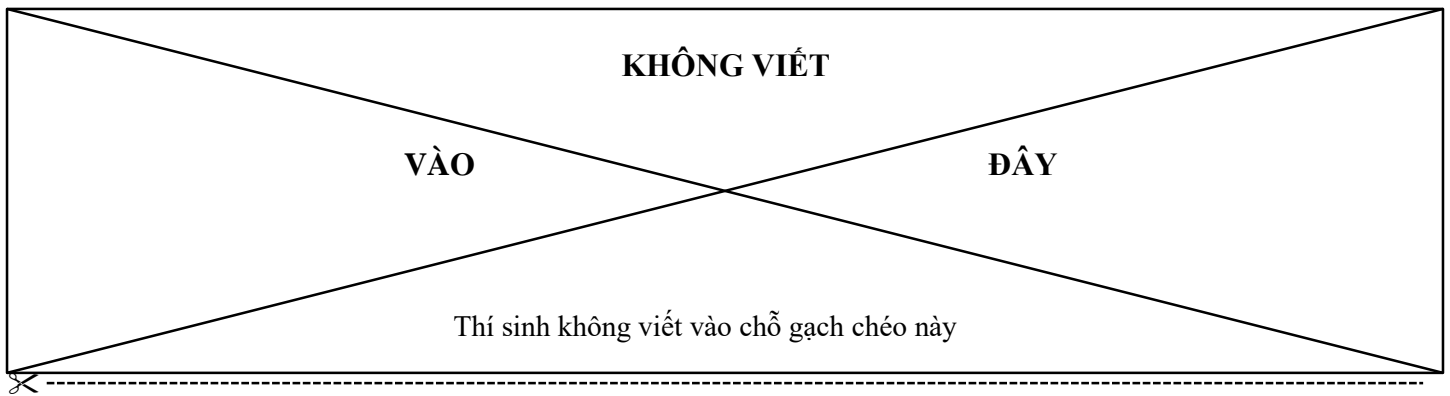
A

 thành

●

KHÔNG trả lời bằng cách khoanh ở đầu các câu đáp án trong phần đề dưới bảng trả lời. Chỉ chấm điểm cho phần bài làm trong bảng trả lời.

BẢNG TRẢ LỜI									
Câu	Chọn lựa				Câu	Chọn lựa			
1	A	B	C		11		B	C	D
2	A		C	D	12		B	C	D
3	A	B		D	13	A	B		D
4	A	B		D	14	A	B		D
5	A	B	C		15	A		C	D
6	A		C	D	16	A	B		D
7	A	B		D	17	A	B		D
8	A	B	C		18		B	C	D
9	A		C	D	19	A	B	C	
10		B	C	D	20	A	B		D



Question 1. The grand ceremony, which was held solemnly on April 30th, 2025 in Ho Chi Minh City, was a significant occasion marking _____ of Southern Liberation and National Reunification of Viet Nam.

- A. the fifteenth anniversary B. the thirtieth anniversary
C. the fortieth anniversary **D. the fiftieth anniversary**



Question 2. “Quyết hi sinh vì Đảng, vì dân” is the famous quote from the national hero _____.

- A. Trường Chinh **B. Phan Đình Giót**
C. Võ Nguyên Giáp D. Chu Bá Thệ

Question 3. Trường Sa is an island district of _____ in the South Central Coast region of Vietnam.

- A. Đà Nẵng City B. Bình Thuận province
C. Khánh Hòa province D. Kiên Giang province

Question 4. The metro line in Ho Chi Minh City is called Metro Line 1 or _____.

- A. Bến Thành – Cần Giờ
B. Bến Nhà Rồng – Củ Chi
C. Bến Thành – Suối Tiên
D. Bến Thành – Thủ Đức

Question 5. During the Nguyen Dynasty, which war demonstrated the strength and national will of the Vietnamese people in their struggle for independence and freedom?

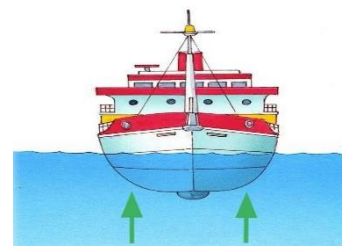
- A. The civil war against the Mạc army
B. The war against the Minh army
C. The war against the U.S army
D. The resistance war against the French

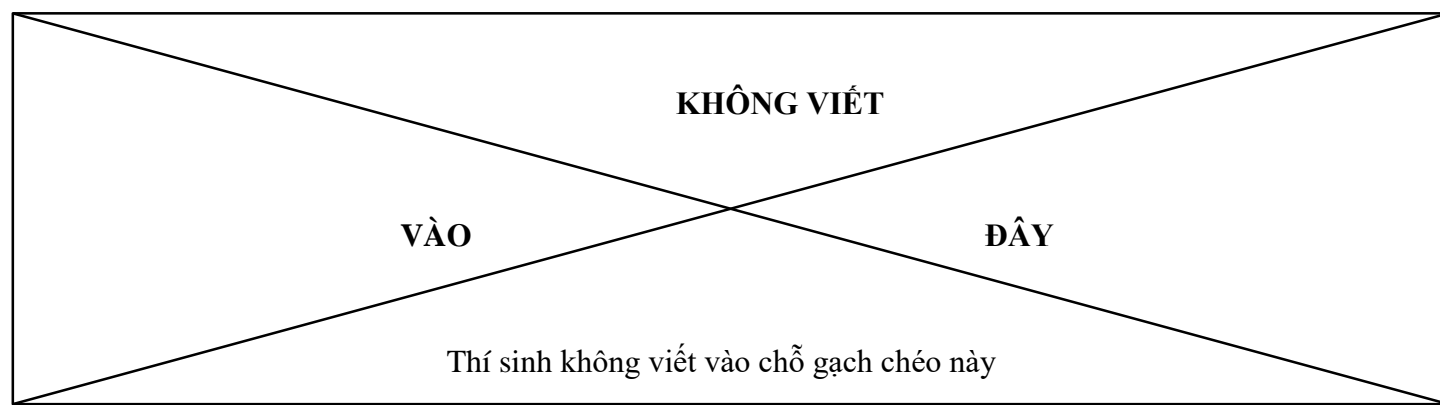
Question 6. What makes the Sahara Desert become a harsh environment for all living organisms?

- A. Fertile soil **B. Arid and hot climate**
C. Annual drizzle D. Dense wood

Question 7. What is the name of the force shown by the arrows in this picture?

- A. gravity
B. forward force
C. upthrust
D. air resistance





✂

Question 8. Which of the following causes soil pollution is caused by humans?

- A. Saltwater intrusion
- B. Iron contamination
- C. Volcanic eruptions
- D. Use of chemical fertilizers**

Question 9. What happens if a plant doesn't get enough sunlight?

- A. Its roots will grow deeper into the soil.
- B. Its stem will grow long and thin, then become weak and die.**
- C. It will die immediately.
- D. Its leaves will gradually turn green.

Question 10. The Earth rotates on its axis once every _____.

- A. 24 hours**
- B. 24 days
- C. 28 days
- D. 365 days



Question 11. What do you often see before you hear the thunder?

- A. the lightning**
- B. the heat
- C. the snow
- D. the wind

Question 12. In an experiment, An placed a piece of metal into a cup of water and observed that it sank to the bottom. Then, An placed a plastic ball into the same cup of water and saw that the ball floated on the surface.

Why does the plastic ball float while the metal piece sinks in water?

- A. Because the plastic ball is lighter than water, while the metal piece is heavier than water.**
- B. Because the plastic ball is bigger than the metal piece.
- C. Because the plastic ball has a different color from the metal piece.
- D. Because the metal piece has a different shape from the plastic ball.

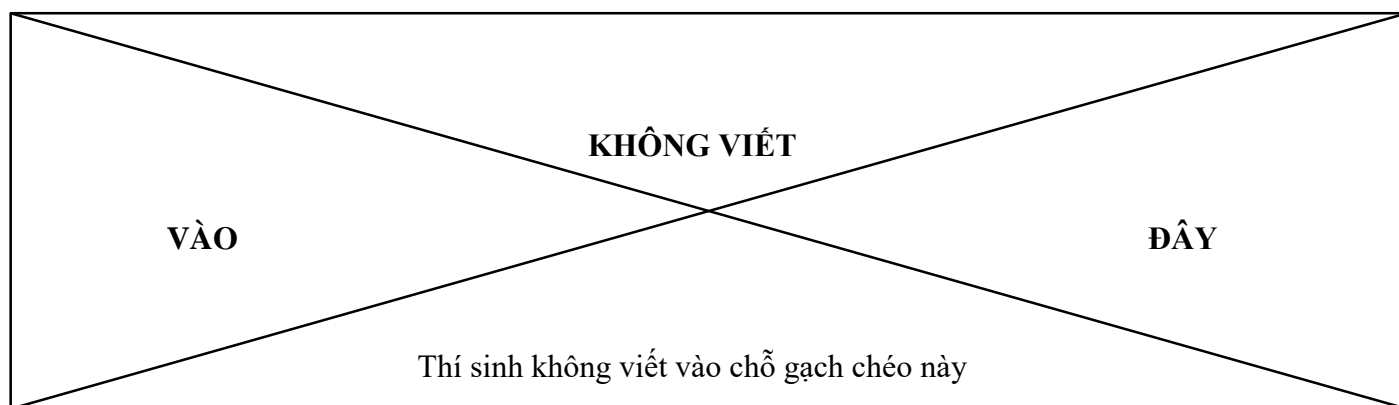
Question 13. Why is it important to control the consumption of drugs, alcohol, beer and tobacco?

- A. To help the economy grow
- B. To reduce stress and anxiety
- C. To protect health and keep the community safe**
- D. To have no negative impact on health

Question 14. _____ take place when the moon appears smaller than the sun, leaving a ring of sunlight visible around its edges. This creates a "ring of fire" effect, with the sun's bright disk surrounded by a glowing halo of light.

- A. Half solar eclipses
- B. Partial solar eclipses
- C. Annular solar eclipses**
- D. Lunar eclipses





✂

Question 15. What does this sign mean?

- A. You should carry a backpack in this area.
- B. It's prohibited to bring backpacks into this area.**
- C. You must pay attention when carrying a backpack.
- D. You ought to watch out for backpacks in this area.



Question 16.

Alex: Do you know who invented telephone?

Daisy: Yes, it _____ by Alexander Graham Bell.

- A. invented
- B. inventing
- C. was invented**
- D. has invented

Question 17. We pour 28 liters of oil into two empty jars. The amount of oil in the first jar is 75% of the amount of oil in the second jar. How many liters of oil are in the second jar?

- A. 12 liters
- B. 14 liters
- C. 16 liters**
- D. 21 liters

Question 18. Ms. Hoa has 24,000,000 VND. She uses $\frac{2}{3}$ of the money to buy a washing machine and a refrigerator. The price of the refrigerator is 2,500,000 VND more (expensive) than the washing machine. What is the price of the refrigerator?

- A. 9,250,000 VND**
- B. 6,750,000 VND
- C. 16,750,000 VND
- D. 7,250,000 VND

Question 19. “*Ngày xưa*, có một gia đình nghèo gồm hai mẹ con sống nương tựa vào nhau, cuộc sống của họ bình yên trong một ngôi nhà nhỏ”. Từ in đậm trong câu văn thuộc loại trạng ngữ nào?

- A. Trạng ngữ chỉ mục đích
- B. Trạng ngữ chỉ nơi chốn
- C. Trạng ngữ chỉ nguyên nhân
- D. Trạng ngữ chỉ thời gian**

Question 20. Đọc đoạn thơ:

Mẹ!
 Có nghĩa là duy nhất
 Một bầu trời
 Một mặt đất
 Một vầng trăng

(Trích *Ngày xưa có mẹ*, Thanh Nguyên)

Đoạn thơ trên đã khơi gợi cho em tình cảm, cảm xúc gì?

- A. Mỗi người chỉ được có một người mẹ.
- B. Mẹ luôn hi sinh tất cả cho con.
- C. Mẹ tồn tại vĩnh hằng và duy nhất trong suốt cuộc đời con.**
- D. Hình ảnh mẹ luôn luôn đẹp trong mắt con.

--- THE END OF THE TEST ---